



SEGURTASUNeko SEINALEZTAPENA 39

1	Hurrengo esaldietatik zein da okerra:
A	SEGURTASUNeko SEINALEZTAPENA ez da gainerako segurtasun-tekniken ordezkoa, haien osagarria baizik.
B	SEGURTASUNeko SEINALEZTAPENA erabiliko da langileak arriskuez ohartarazteko, ekintza batzuk debekatzeko, jokabide zehatzak agintzeko, eta abar.
C	SEGURTASUNeko SEINALEZTAPENAK arriskuak ekidin edo murrizteko neurriak hartzeko betebeharretatik lekatzen du enpresaburua.

2	Hurrengo esaldietatik zein da okerra:
A	SEGURTASUNeko SEINALEZTAPENA erabiliko da langileak erne jarraztea premiazko babes edo ebakuazio neurriak hartzea eskatzen duen larrialdi jakin bat gertatzen denean.
B	SEGURTASUNeko SEINALEZTAPENA erabiliko da modu emateko langileei errazago aurki eta identifika ditzaten babes, ebakuazio, larrialdi edo lehen laguntzetarako bitarteko edo instalazio jakin batzuk.
C	SEGURTASUNeko SEINALEZTAPENA segurtasun eta osasun alorreko prestakuntza eta informazioaren ordezkoko kontsideratzen da.

3	Eraginkorrak izan daitezten eta beren prebentzio-helburua bete dezaten, besteak beste, honako baldintzok bete beharko dituzte SEGURTASUNeko SEINALEEK:
A	Seinalea jasotzen duenaren arreta erakarriko dute eta mezua behar den besteko aurrerapenaz adieraziko dute.
B	Mezu laburrak, argiak eta zehatzak adieraziko dituzte, eguneratuta egongo dira eta erraz betetzeko modukoak izango dira.
C	Biak dira zuzenak.

4	Seinaleak jasotzen diren zentzuari dagokionez honela sailkatzen dira SEGURTASUN-SEINALEAK:
A	SEINALE OPTIKOAK eta SEINALE AKUSTIKOAK.
B	SEINALE OPTIKOAK, SEINALE AKUSTIKOAK eta UKIMEN-SEINALEAK.
C	SEINALE OPTIKOAK, SEINALE AKUSTIKOAK, USAIMEN-SEINALEAK eta UKIMEN-SEINALEAK.

5	Seinaleak BELARRIETATIK jasotzen direnean, _____ deitzen zaie	
	A	SEINALE OPTIKOAK
	B	SEINALE AKUSTIKOAK
	C	UKIMEN SEINALEAK

6	USAIMEN-SEINALEAK gas _____ detektatzeko erabiltzen dira gehien bat.	
	A	TOXIKOAK
	B	USAIGABEAK
	C	LEHERKARIAK

7	Nola deitzen zaio laneko segurtasun eta osasunarekin lotutako esanahi jakin bat adierazten duen KOLOREARI:	
	A	KONTRASTE-KOLOREA.
	B	SEGURTASUN-KOLOREA.
	C	KOLORE OSAGARRIA.

8	Nola deitzen zaio ikusgaitasuna hobetu eta edukia nabarmentzeko helburuarekin, segurtasun-kolorea osatzen duen beste KOLOREARI:	
	A	KONTRASTE-KOLOREA.
	B	SEGURTASUN-KOLOREA.
	C	KOLORE OSAGARRIA.

9	Nola deitzen zaio ikusgaitasuna hobetu eta edukia nabarmentzeko helburuarekin, segurtasun-kolorea osatzen duen beste KOLOREARI:	
	A	KONTRASTE-KOLOREA.
	B	FORMA GEOMETRIKOA
	C	ILUSTRAZIOA

10	Nola deitzen zaio ARRISKU-EGOERA baten berri ematen duen SEINALEARI:	
	A	DEBEKU-SEINALEA.
	B	BETEBEHAR-SEINALEA.
	C	OHARTARAZPEN-SEINALEA.

11	Nola deitzen zaio ARRISKUA sor ditzaketen jokaeren debekua adierazten duten SEINALEARI:		
	<table border="1"> <tr> <td data-bbox="240 235 339 291">A</td><td data-bbox="339 235 1468 291">DEBEKU-SEINALEA.</td></tr> </table>	A	DEBEKU-SEINALEA.
A	DEBEKU-SEINALEA.		
	<table border="1"> <tr> <td data-bbox="240 291 339 347">B</td><td data-bbox="339 291 1468 347">BETEBEHAR-SEINALEA.</td></tr> </table>	B	BETEBEHAR-SEINALEA.
B	BETEBEHAR-SEINALEA.		
	<table border="1"> <tr> <td data-bbox="240 347 339 403">C</td><td data-bbox="339 347 1468 403">OHARTARAZPEN-SEINALEA.</td></tr> </table>	C	OHARTARAZPEN-SEINALEA.
C	OHARTARAZPEN-SEINALEA.		

12	Nola deitzen zaio jokabide zehatz bat betetzeko DERRIGORTASUNA adierazten duten SEINALEARI:		
	<table border="1"> <tr> <td data-bbox="240 564 339 620">A</td><td data-bbox="339 564 1468 620">DEBEKU-SEINALEA.</td></tr> </table>	A	DEBEKU-SEINALEA.
A	DEBEKU-SEINALEA.		
	<table border="1"> <tr> <td data-bbox="240 620 339 676">B</td><td data-bbox="339 620 1468 676">BETEBEHAR-SEINALEA.</td></tr> </table>	B	BETEBEHAR-SEINALEA.
B	BETEBEHAR-SEINALEA.		
	<table border="1"> <tr> <td data-bbox="240 676 339 730">C</td><td data-bbox="339 676 1468 730">OHARTARAZPEN-SEINALEA.</td></tr> </table>	C	OHARTARAZPEN-SEINALEA.
C	OHARTARAZPEN-SEINALEA.		


13	Zein da BETEBEHAR-SEINALEEN segurtasun-kolorea:		
	<table border="1"> <tr> <td data-bbox="240 896 339 952">A</td><td data-bbox="339 896 1468 952">BERDEA.</td></tr> </table>	A	BERDEA.
A	BERDEA.		
	<table border="1"> <tr> <td data-bbox="240 952 339 1008">B</td><td data-bbox="339 952 1468 1008">GORRIA.</td></tr> </table>	B	GORRIA.
B	GORRIA.		
	<table border="1"> <tr> <td data-bbox="240 1008 339 1061">C</td><td data-bbox="339 1008 1468 1061">URDINA.</td></tr> </table>	C	URDINA.
C	URDINA.		


14	Zein da OHARTARAZEN-SEINALEEN segurtasun-kolorea:		
	<table border="1"> <tr> <td data-bbox="240 1227 339 1283">A</td><td data-bbox="339 1227 1468 1283">HORIA.</td></tr> </table>	A	HORIA.
A	HORIA.		
	<table border="1"> <tr> <td data-bbox="240 1283 339 1339">B</td><td data-bbox="339 1283 1468 1339">GORRIA.</td></tr> </table>	B	GORRIA.
B	GORRIA.		
	<table border="1"> <tr> <td data-bbox="240 1339 339 1393">C</td><td data-bbox="339 1339 1468 1393">URDINA.</td></tr> </table>	C	URDINA.
C	URDINA.		


15	Zein da SALBAMENDU edo SOROSMEN SEINALEEN segurtasun-kolorea:		
	<table border="1"> <tr> <td data-bbox="240 1559 339 1615">A</td><td data-bbox="339 1559 1468 1615">BERDEA.</td></tr> </table>	A	BERDEA.
A	BERDEA.		
	<table border="1"> <tr> <td data-bbox="240 1615 339 1671">B</td><td data-bbox="339 1615 1468 1671">GORRIA.</td></tr> </table>	B	GORRIA.
B	GORRIA.		
	<table border="1"> <tr> <td data-bbox="240 1671 339 1724">C</td><td data-bbox="339 1671 1468 1724">URDINA.</td></tr> </table>	C	URDINA.
C	URDINA.		


16	Zein da SEGURTASUN-KOLORE horiari dagokion KONTRASTE-KOLOREA:		
	<table border="1"> <tr> <td data-bbox="240 1890 339 1946">A</td><td data-bbox="339 1890 1468 1946">Beltza.</td></tr> </table>	A	Beltza.
A	Beltza.		
	<table border="1"> <tr> <td data-bbox="240 1946 339 2002">B</td><td data-bbox="339 1946 1468 2002">Zuria.</td></tr> </table>	B	Zuria.
B	Zuria.		
	<table border="1"> <tr> <td data-bbox="240 2002 339 2054">C</td><td data-bbox="339 2002 1468 2054">Gorria.</td></tr> </table>	C	Gorria.
C	Gorria.		

17	Zein da SEGURTASUN-KOLORE berdeari dagokion KONTRASTE-KOLOREA:
A	Beltza.
B	Zuria.
C	Gorria.

18	Zein da SEINALE honen esanahia: 
A	Esekitako kargen arriskua.
B	Debekatuta kargak manipulatzeko.
C	Adi, mantentze-lanetako orgak.

19	Zein da seinale honen esanahia: 
A	Ke-detektatzailea.
B	Alarma sistema akustikoa.
C	Eskuzko alarma-sakagailua.

20	Zein da seinale honen esanahia: 
A	Segurtasun-dutxak.
B	Begiak garbitzeko iturria.
C	Nahitaezkoa dutxatzea.

21	Zein da seinale honen esanahia: 
A	Sarrera librea.
B	Debekatuta baimenik gabeko pertsonak sartzea.
C	Banan-banan sartu beharra, ezinbestean.

22	Merkantzia arriskutsuak garraiatzen duten ibilgailuetako PANELEAN "X" letra agertzen bada:
A	Ura jaurti behar zaiola produktuari esan nahi du.
B	Ura ezin dela jaurti behar zaiola produktuari esan nahi du.
C	Area jaurti behar zaiola produktuari esan nahi du.

23	Zein da instalazio elektrikoetako babeserako-eroalearen kolorea:	
	A	URDINA ETA MARROIA
	B	GORRIA ETA ZURIA
	C	HORIA ETA BERDEA

24	Hodi industrialetak bi eratako koloreak biltzen dira:	
	A	KOLORE ARGIAK eta ILUNAK.
	B	OINARRIZKO KOLOREA eta FRANJA BELTZA.
	C	OINARRIZKO KOLOREA eta KOLORE OSAGARRIA.

25	MERKANTZIE ARRISKUTSUEN GARRAIOETAKO ERREGELAMENDUAK garraiatzen diren produktuen identifikazio eta seinaleztapenaren inguruko guztia zehazten du. Informazioa bi bidetik ematen da:	
	A	PANELA eta ARRISKU-ETIKETAK.
	B	GIDARIAREN ESKULIBURUA.
	C	GURPILEN KOLOREA.